

Единый государственный экзамен по МАТЕМАТИКЕ

Инструкция по выполнению работы

На выполнение экзаменационной работы по математике даётся 3 часа 55 минут (235 минут). Работа состоит из двух частей, включающих в себя 20 заданий.

Часть 1 содержит 14 заданий с кратким ответом (B1–B14) базового уровня по материалу курса математики. Ответом является целое число или конечная десятичная дробь.

Часть 2 содержит 6 более сложных заданий (C1–C6) по материалу курса математики. При их выполнении надо записать полное решение и ответ.

Все бланки ЕГЭ заполняются яркими чёрными чернилами. Допускается использование гелевой, капиллярной или перьевой ручки.

При выполнении заданий Вы можете пользоваться черновиком. Обращаем Ваше внимание, что записи в черновике не будут учитываться при оценивании работы.

Советуем выполнять задания в том порядке, в котором они даны. Для экономии времени пропускайте задание, которое не удаётся выполнить сразу, и переходите к следующему. Если после выполнения всей работы у Вас останется время, Вы сможете вернуться к пропущенным заданиям.

Баллы, полученные Вами за выполненные задания, суммируются. Постарайтесь выполнить как можно больше заданий и набрать наибольшее количество баллов.

*Желаем успеха!*

Справочные материалы

$$\begin{aligned} \sin^2 \alpha + \cos^2 \alpha &= 1 \\ \sin 2\alpha &= 2 \sin \alpha \cdot \cos \alpha \\ \cos 2\alpha &= \cos^2 \alpha - \sin^2 \alpha \\ \sin(\alpha + \beta) &= \sin \alpha \cdot \cos \beta + \cos \alpha \cdot \sin \beta \\ \cos(\alpha + \beta) &= \cos \alpha \cdot \cos \beta - \sin \alpha \cdot \sin \beta \end{aligned}$$

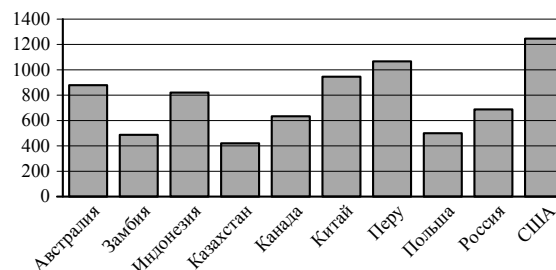
Часть 1

Ответом на задания B1–B14 должно быть целое число или конечная десятичная дробь. Ответ следует записать в бланк ответов № 1 справа от номера выполняемого задания, начиная с первой клеточки. Каждую цифру, знак минус и запятую пишите в отдельной клеточке в соответствии с приведёнными в бланке образцами. Единицы измерений писать не нужно.

**B1** Одна таблетка лекарства весит 20 мг и содержит 5% активного вещества. Ребёнку в возрасте до 6 месяцев врач прописывает 1 мг активного вещества на каждый килограмм веса в сутки. Сколько таблеток этого лекарства следует дать ребёнку в возрасте четырёх месяцев и весом 7 кг в течение суток?

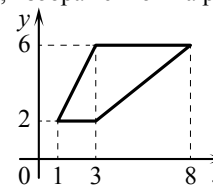
Ответ: \_\_\_\_\_.

**B2** На диаграмме показано распределение выплавки меди в 10 странах мира (в тысячах тонн) за 2006 год. Среди представленных стран первое место по выплавке меди занимали США, десятое место — Казахстан. Какое место занимала Австралия?



Ответ: \_\_\_\_\_.

**B3** Найдите площадь трапеции, изображённой на рисунке.



Ответ: \_\_\_\_\_.

**В4** Независимая экспертная лаборатория определяет рейтинг  $R$  бытовых приборов на основе коэффициента ценности, равного  $0,01$  средней цены  $P$ , показателей функциональности  $F$ , качества  $Q$  и дизайна  $D$ . Каждый из показателей оценивается целым числом от 0 до 4. Итоговый рейтинг вычисляется по формуле

$$R = 4(2F + 2Q + D) - 0,01P.$$

В таблице даны средняя цена и оценки каждого показателя для нескольких моделей электрических мясорубок. Определите наивысший рейтинг представленных в таблице моделей электрических мясорубок.

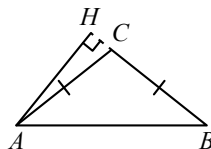
Модель мясорубки	Средняя цена	Функциональность	Качество	Дизайн
А	3600	2	4	0
Б	3900	2	0	1
В	4100	1	4	4
Г	3700	3	4	3

Ответ: \_\_\_\_\_.

**В5** Найдите корень уравнения  $4^{-7+x} = 64$ .

Ответ: \_\_\_\_\_.

**В6** В треугольнике  $ABC$   $AC = BC$ ,  $AB = 10$ , высота  $AH$  равна 3. Найдите синус угла  $BAC$ .

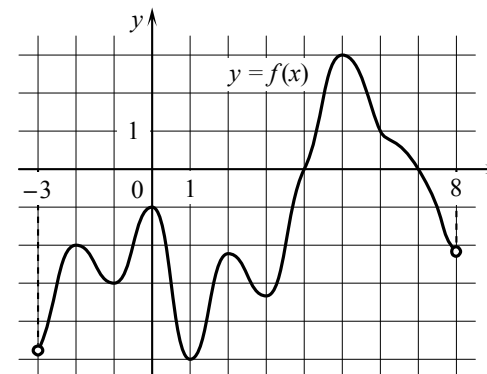


Ответ: \_\_\_\_\_.

**В7** Найдите значение выражения  $\log_4 96 - \log_4 1,5$ .

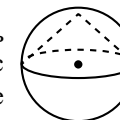
Ответ: \_\_\_\_\_.

**В8** На рисунке изображён график функции  $y = f(x)$ , определённой на интервале  $(-3; 8)$ . Найдите количество точек, в которых производная функции  $f(x)$  равна 0.



Ответ: \_\_\_\_\_.

**В9** Около конуса описана сфера (сфера содержит окружность основания конуса и его вершину). Центр сферы совпадает с центром основания конуса. Радиус сферы равен  $23\sqrt{2}$ . Найдите образующую конуса.

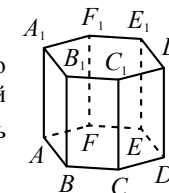


Ответ: \_\_\_\_\_.

**В10** Перед началом первого тура чемпионата по бадминтону участников разбивают на игровые пары случайным образом с помощью жребия. Всего в чемпионате участвует 76 бадминтонистов, среди которых 16 спортсменов из России, в том числе Игорь Чаев. Найдите вероятность того, что в первом туре Игорь Чаев будет играть с каким-либо бадминтонистом из России.

Ответ: \_\_\_\_\_.

**В11** Найдите объём многогранника, вершинами которого являются точки  $A, B, C, D, E, F, D_1$  правильной шестиугольной призмы  $ABCDEF A_1 B_1 C_1 D_1 E_1 F_1$ , площадь основания которой равна 3, а боковое ребро равно 9.



Ответ: \_\_\_\_\_.

- B12** Локатор батискафа, равномерно погружающегося вертикально вниз, испускает ультразвуковые импульсы частотой 299 МГц. Скорость погружения батискафа, выражаемая в м/с, определяется по формуле  $v = c \cdot \frac{f - f_0}{f + f_0}$ , где  $c = 1500$  м/с — скорость звука в воде,  $f_0$  — частота испускаемых импульсов (в МГц),  $f$  — частота отражённого от дна сигнала, регистрируемая приёмником (в МГц). Определите наибольшую возможную частоту отражённого сигнала  $f$ , если скорость погружения батискафа не должна превышать 5 м/с. Ответ выразите в МГц.

Ответ: \_\_\_\_\_.

- B13** Лодка в 8:00 вышла из пункта А в пункт В, расположенный в 15 км от А. Пробыв в пункте В 2 часа, лодка отправилась назад и вернулась в пункт А в 20:00 того же дня. Определите (в км/ч) собственную скорость лодки, если известно, что скорость течения реки равна 2 км/ч.

Ответ: \_\_\_\_\_.

- B14** Найдите наименьшее значение функции  $y = \frac{x^2 + 484}{x}$  на отрезке  $[2; 33]$ .

Ответ: \_\_\_\_\_.

**Не забудьте перенести все ответы в бланк ответов № 1.**

## Часть 2

*Для записи решений и ответов на задания C1–C6 используйте бланк ответов № 2. Запишите сначала номер выполняемого задания (C1, C2 и т. д.), а затем полное обоснованное решение и ответ.*

- C1** а) Решите уравнение  $10^{\sin x} = 2^{\sin x} \cdot 5^{-\cos x}$ .  
б) Найдите все корни этого уравнения, принадлежащие отрезку  $\left[-\frac{5\pi}{2}; -\pi\right]$ .
- C2** В правильной четырёхугольной пирамиде  $MABCD$  с вершиной  $M$  стороны основания равны 3, а боковые рёбра равны 8. Найдите площадь сечения пирамиды плоскостью, проходящей через точку  $B$  и середину ребра  $MD$  параллельно прямой  $AC$ .
- C3** Решите систему неравенств
- $$\begin{cases} \log_{5-x} \frac{x+4}{(x-5)^{10}} \geq -10, \\ x^3 + 8x^2 + \frac{50x^2 + x - 7}{x-7} \leq 1. \end{cases}$$
- C4** Окружности радиусов 3 и 5 с центрами  $O_1$  и  $O_2$  соответственно касаются в точке  $A$ . Прямая, проходящая через точку  $A$ , вторично пересекает меньшую окружность в точке  $B$ , а большую — в точке  $C$ . Найдите площадь треугольника  $BCO_2$ , если  $\angle ABO_1 = 15^\circ$ .
- C5** Найдите все значения  $a$ , при каждом из которых уравнение  $ax + \sqrt{3 - 2x - x^2} = 4a + 2$  имеет единственный корень.
- C6** Задумано несколько (не обязательно различных) натуральных чисел. Эти числа и их все возможные суммы (по 2, по 3 и т.д.) выписывают на доску в порядке неубывания. Если какое-то число  $n$ , выписанное на доску, повторяется несколько раз, то на доске оставляется одно такое число  $n$ , а остальные числа, равные  $n$ , стираются. Например, если задуманы числа 1, 3, 3, 4, то на доске будет записан набор 1, 3, 4, 5, 6, 7, 8, 10, 11.  
а) Приведите пример задуманных чисел, для которых на доске будет записан набор 1, 2, 3, 4, 5, 6, 7.  
б) Существует ли пример таких задуманных чисел, для которых на доске будет записан набор 1, 3, 4, 6, 7, 8, 10, 11, 12, 13, 15, 16, 17, 19, 20, 22?  
в) Приведите все примеры задуманных чисел, для которых на доске будет записан набор 7, 9, 11, 14, 16, 18, 20, 21, 23, 25, 27, 30, 32, 34, 41.